

[6] 练一练 三

1. 在□里填数。



$$\square + \square = \square$$

$$\square + \square = \square$$

$$\square - \square = \square$$

$$\square - \square = \square$$



$$\square + \square = \square$$

$$\square + \square = \square$$

$$\square - \square = \square$$

$$\square - \square = \square$$

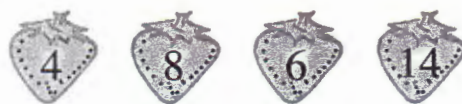


$$\square + \square = \square$$

$$\square + \square = \square$$

$$\square - \square = \square$$

$$\square - \square = \square$$



$$\square + \square = \square$$

$$\square + \square = \square$$

$$\square - \square = \square$$

$$\square - \square = \square$$

2. 求图形表示的数。

$$\blacktriangle - 5 = 9$$

$$\blacktriangle = \square \bigcirc \square$$

$$\blacktriangle = \square$$

$$15 - \star = 8$$

$$\star = \square \bigcirc \square$$

$$\star = \square$$

$$\blacksquare + 3 = 9$$

$$\blacksquare = \square \bigcirc \square$$

$$\blacksquare = \square$$

$$\bullet - 3 = 9$$

$$\bullet = \square \bigcirc \square$$

$$\bullet = \square$$



3. 列竖式计算。

$32 - 18 =$

$47 - 29 =$

$82 - 27 =$

$91 - 19 =$

$28 - 19 =$

$46 - 27 =$

$63 - 54 =$

$72 - 27 =$

$85 - 58 =$

时间：_____ 满意度：☆☆☆☆☆

4. 3 个小朋友分别看 3 本书, 根据表格中的信息分别算一算。

	科技书	故事书	童话书
全书页数	88	76	
已看的页数	29		36
还剩的页数		18	28





5. 计算。

$$25 + 26 + 17$$

$$81 - 23 - 14$$

$$80 - 25 - 36$$

$$90 - 17 + 25$$

$$26 + 56 - 18$$

$$76 - 18 + 25$$

6. 解决问题。

公交车
(bus)

(1) 公交车上原来有 26 人,又上来 18 人,现在车上共有多少人?

现在
(now)

(2) 公交车上原来有 26 人,下车 18 人,现在车上有多少人?

(3) 公交车上原来有 38 人,下车 8 人,过了一站又下车 12 人。现在车上还有多少人?

(4) 公交车上原来有 17 人,上来 8 人,过了一站又上来 16 人。现在车上共有多少人?

(5) 公交车上原来有 23 人,这一站上车 18 人,下车 12 人。现在车上有多少人?





【7】练一练 三

1. 12 个苹果, 每 4 个放 1 盘, 可以放()盘。



$$\square \div \square = \square (\text{盘})$$

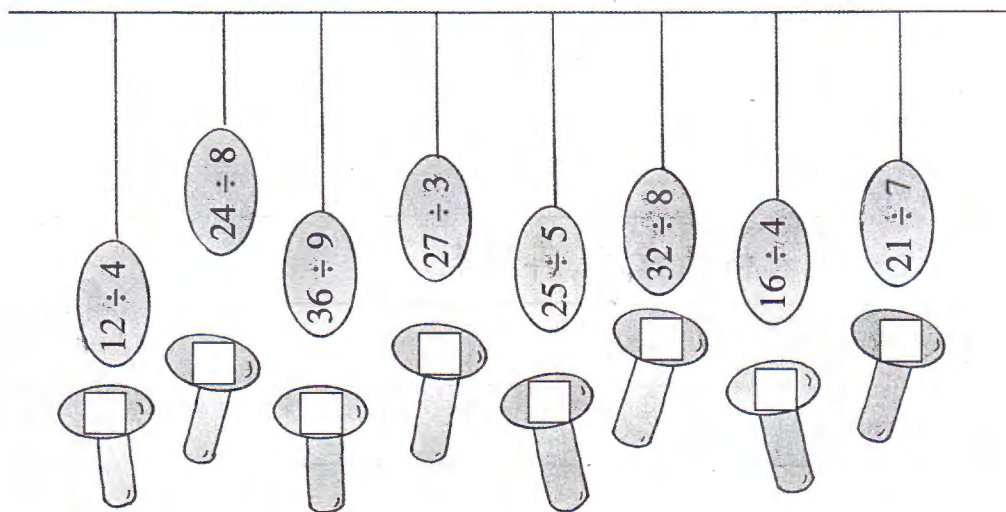
2. 一本故事书共有 24 页, 6 天看完, 平均每天看多少页?

$$\square \div \square = \square (\text{页})$$

3. 在 \square 里填数。

\square 四得 8	三 \square 18	\square 九 36	\square 八 32
$\square \times 4 = 8$	$3 \times \square = 18$	$\square \times 9 = 36$	$\square \times 8 = 32$
$8 \div 4 = \square$	$18 \div 3 = \square$	$36 \div 9 = \square$	$32 \div 8 = \square$

4. 砸金蛋。在对应的 \square 里填商。



5. 求各图形代表的数。

(1) $2 \times \bullet = 12$

$$\bullet = 12 \bigcirc 2$$

$$\bullet = \square$$

(2) $\blacktriangle \div 3 = 9$

$$\blacktriangle = 9 \bigcirc 3$$

$$\blacktriangle = \square$$

(3) $\star \times 7 = 21$

$$\star = \square \bigcirc \square$$

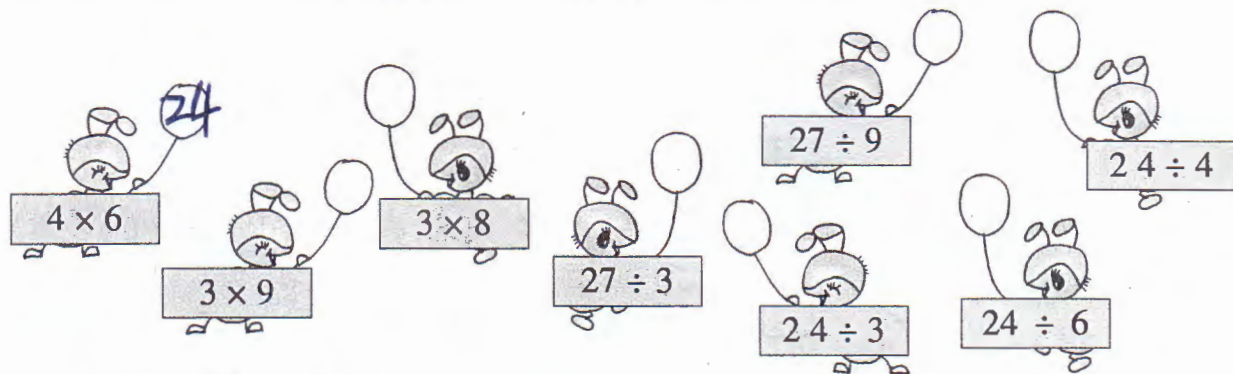
$$\star = \square$$





【8】整理与应用 一(1)

1. 在气球上写出得数,再把这些算式分分类。



2. 看表在□里填数。

4	4	4	4	4	4	4	4
8		8		8		8	
16				16			
32							

$$4 \times \square = 32$$

$$32 \div \square = 4$$

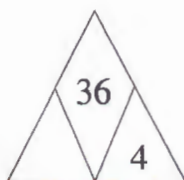
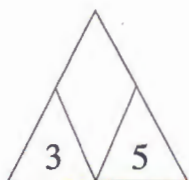
$$8 \times \square = 32$$

$$16 \div \square = 8$$

$$4 \times \square = 16$$

$$32 \div 2 = \square$$

3. 找规律填数。



4. 先说一说表格的意思,再填表。

衣服件数	1	4		7	
纽扣粒数	3		15		27



5. 求各图形代表的数。

$$(1) 4 \times 2 + \bullet = 11$$

$$\bullet = 11 - 4 \times 2$$

$$\bullet = \square$$

$$(2) 8 \times 3 - \blacktriangle = 15$$

$$8 \times 3 = 15 + \blacktriangle$$

$$\blacktriangle = \square$$

